



## ZÁKLADNÍ ŠKOLA OLOMOUC

příspěvková organizace

MOZARTOVA 48, 779 00 OLOMOUC

tel.: 585 427 142, 775 116 442; fax: 585 422 713

e-mail: [kundrum@centrum.cz](mailto:kundrum@centrum.cz); [www.zs-mozartova.cz](http://www.zs-mozartova.cz)



evropský  
sociální  
fond v ČR



EVROPSKÁ UNIE



MINISTERSTVO ŠKOLSTVÍ,  
MLÁDEŽE A TĚLOVÝCHOVY



OP Vzdělávání  
pro konkurenceschopnost

INVESTICE DO ROZVOJE VZDĚLÁVÁNÍ

Projekt: ŠKOLA RADOSTI, ŠKOLA KVALITY

Registrační číslo projektu: CZ.1.07/1.4.00/21.3688

## EU PENÍZE ŠKOLÁM

Operační program Vzdělávání pro konkurenceschopnost

<b>Autor:</b>	Mgr. Eva Hájková
<b>Vzdělávací oblast:</b>	Člověk a příroda
<b>Vzdělávací obor:</b>	Zeměpis
<b>Vzdělávací předmět:</b>	Zeměpis
<b>Ročník:</b>	8.
<b>Tematická oblast:</b>	Státy Evropy
<b>Téma hodiny:</b>	Státy severní Evropy
<b>Označení DUM:</b>	VY_32_INOVACE_12.14.HAJ.ZE.8
<b>Vytvořeno:</b>	2. 1. 2013

## Státy severní Evropy – opakování

**V severní Evropě leží tyto státy:**

.....

**1) Doplně následující text:**

V severní Evropě leží na Skandinávském poloostrově 2 státy: .....

a ..... Dánsko leží na poloostrově ..... a k severní

Evropě patří stát ležící na stejnojmenném ostrově .....

Typickým znakem pobřeží Norska jsou fjordy - .....

..... Okrajová moře u severní Evropy jsou:

..... Povrch těchto států je převážně .....

..... , dominuje pohoří .....

Všechny státy severní Evropy mají podobné klima mírné .....

pro které je charakteristické .....

Významným prvkem klimatu severní Evropy je ..... proud, který

způsobuje, že přístavy v Norsku .....

Hlavně Norsko a Švédsko mají řeky ..... a ....., které jsou

využívány pro ..... Zemí tisíce jezer je

nazýváno ....., většina jezer je původu .....

Na Islandu jsou typické horké prameny - .....

Velkým přírodním bohatstvím Skandinávských zemí jsou .....

**2) Rozhodni, jestli je věta správná, pokud ne, oprav tvrzení:**

- Norsko a Dánsko těží ropu z Baltského moře ... ..
- Na severu Švédska jsou zásoby železné rudy .....
- Dánsko je nazýváno Zemí tisíce jezer .....
- Na Islandu jsou rozsáhlé jehličnaté lesy.....
- Dánsko, Finsko a Norsko jsou monarchie .. ..
- Norsko vyrábí 99% energie v jaderných elektrárnách.....
- Rybolov je významný ve všech státech severní Evropy. ....

**3) Propoj název státu, hlavní město a další města:**

Hlavní město	stát	další města
Reykjavik	Dánsko	Bergen
Helsinky	Norsko	Malmo
Kodaň	Švédsko	Turku
Oslo	Finsko	Goteborg
Stockholm	Island	Tampere

**4) Z následujících pojmů urči stát severní, západní nebo jižní Evropy:**

- Gejzíry, rybolov, sopečný osrov.....
- Nokia, papír, lesy, jezera.....
- Tulipány, poldry, sýry, větrné mlýny .....
- Nejstarší republika, Itálie, cestovní ruch .....

Ocel, nábytek, Volvo, hokej .....

Vodní energie, fjordy, lyžování .....

**5) Ke každému pojmu (výrobku) napiš název státu severní, jižní nebo západní Evropy, ke kterému patří:**


Olivový olej ....., Nokia ..... FIAT.....

Papežský stát .....gejzír..... fjord.....

Nejstarší republika ..... módní oblečení .....

Ocel.. ..... Kasina ..... LEGO .....

**6) Dopln křížovku a vyřeš tajenku:**



1. hlavní město Belgie
2. přístav v Portugalsku
3. historické hlavní město Norska
4. malý stát v Pyrenejích
5. hlavní město Finska
6. značka osobních aut z Itálie
7. horké prameny na Islandu
8. 2. nejmenší stát světa
9. přístav ve Španělsku
10. hlavní město Dánska

Tajenka: .....nejdelší norský fjord (187 km)

**7) Do přiložené slepé mapy Evropy zakresli co nejpřesněji:**

- |              |             |              |
|--------------|-------------|--------------|
| 1. Barcelona | 2. Kodaň    | 3. Atény     |
| 4. Reykjavík | 5. Malta    | 6. Helsinky  |
| 7. Marseille | 8. Glasgow  | 9. Stockholm |
| 10. Oslo     | 11. Andorra | 12. Götting  |



## **Státy severní Evropy – opakování**

**V severní Evropě leží tyto státy:**

..... **Norsko, Švédsko, Finsko, Dánsko, Island** .....

**1) Doplně následující text:**

V severní Evropě leží na Skandinávském poloostrově 2 státy: ...**Norsko**...

a ...**Švédsko**... Dánsko leží na poloostrově ...**Jutském**... a k severní

Evropě patří stát ležící na stejnojmenném ostrově .....**Island**.....

Typickým znakem pobřeží Norska jsou fjordy - ...**skalnaté dlouhé zálivy**

**ledovcového původu**.... Okrajová moře u severní Evropy jsou:

**Norské, Severní a Baltské**.....Povrch těchto států je převážně .....

...**hornatý**.. , dominuje pohoří .....**Skandinávské**.....

Všechny státy severní Evropy mají podobné klima mírné ...**oceánské**.....,

pro které je charakteristické .....**chladno, vlhko**.....

Významným prvkem klimatu severní Evropy je ...**Golfský**..... proud, který

způsobuje, že přístavy v Norsku .....**nezamrzají**.....

Hlavně Norsko a Švédsko mají řeky ...**prudké**... a ...**vodnaté**..., které jsou

využívány pro ...**výrobu elektrické energie**..... Zemí tisíce jezer je

nazýváno ...**Finsko**..., většina jezer je původu ...**ledovcového**.....

Na Islandu jsou typické horké prameny - .....**gejzíry**.....

Velkým přírodním bohatstvím Skandinávských zemí jsou ...**jehličnaté lesy**.....

## 2) Rozhodni, jestli je věta správná, pokud ne, oprav tvrzení:

Norsko a Dánsko těží ropu z Baltského moře ... **ne, ze Severního moře**....

Na severu Švédska jsou zásoby železné rudy .....**ano**.....

Dánsko je nazýváno Zemí tisíce jezer ...**ne, Finsko je zemí tisíce jezer**....

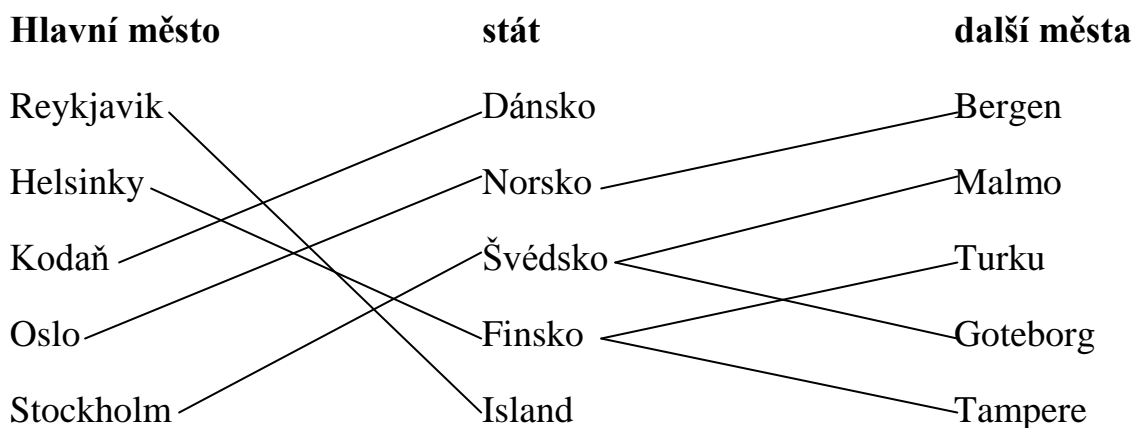
Na Islandu jsou rozsáhlé jehličnaté lesy.....**ne, lesy zde nejsou**.....

Dánsko, Finsko a Norsko jsou monarchie .. **ne, Finsko je republika** .....

Norsko vyrábí 99% energie v jaderných elektrárnách.....**ne, ve vodních**.....

Rybolov je významný ve všech státech severní Evropy. ....**ano**.....

## 3) Propoj název státu, hlavní město a další města:



## 4) Z následujících pojmů urči stát severní, západní nebo jižní Evropy:

Gejzíry, rybolov, sopečný osrov..... **Island**.....

Nokia, papír, lesy, jezera..... **Finsko**.....

Tulipány, poldry, sýry, větrné mlýny ..... **Nizozemí**.....

Nejstarší republika, Itálie, cestovní ruch ..... **San Marino**.....

Ocel, nábytek, Volvo, hokej .....**Švédsko**.....

Vodní energie, fjordy, lyžování .....**Norsko**.....

**5) Ke každému pojmu (výrobku) napiš název státu severní, jižní nebo západní Evropy, ke kterému patří:**

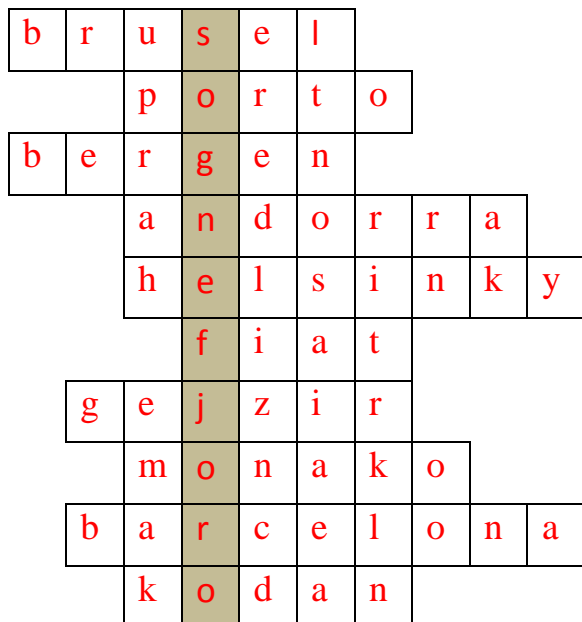
Olivový olej ...**Řecko**....., Nokia .....**Finsko**..... FIAT.....**Itálie**...

Papežský stát ... **Vatikán**.....gejzír....**Island**..... fjord.....**Norsko**.....

Nejstarší republika .....**San Marino**.....módní oblečení ..... **Itálie**.....

Ocel.. ...**Švédsko**..... Kasina .....**Monako**.....LEGO .....**Dánsko**.....

**6) Dopln křížovku a vyřeš tajenku:**



1. hlavní město Belgie
2. přístav v Portugalsku
3. historické hlavní město Norska
4. malý stát v Pyrenejích
5. hlavní město Finska
6. značka osobních aut z Itálie
7. horké prameny na Islandu
8. 2. nejmenší stát světa
9. přístav ve Španělsku
10. hlavní město Dánska

Tajenka: .....**Sognefjord**.....nejdelší norský fjord (187 km)





**ZÁKLADNÍ ŠKOLA OLOMOUC**  
příspěvková organizace  
MOZARTOVA 48, 779 00 OLOMOUC  
tel.: 585 427 142, 775 116 442; fax: 585 422 713  
e-mail: [kundrum@centrum.cz](mailto:kundrum@centrum.cz); [www.zs-mozartova.cz](http://www.zs-mozartova.cz)

### **Seznam použité literatury a pramenů:**

HÜBELOVÁ, D.; CHALUPA, P. *Zeměpis Evropa, 1. díl pro 8. ročník ZŠ nebo tercie víceletých gymnázií*. Brno: Nová škola, s.r.o. 2012. 96 s. IBSN 978-80-7289-348-5.

JEŘÁBEK, M. *Zeměpis 8 - učebnice pro základní školy a víceletá gymnázia*. Plzeň: Fraus 2006. 128 s. IBSN 80-7238-486-4.

*Evropa - sešitový atlas pro základní školy a víceletá gymnázia*. Praha: Kartografie 2006. 53 s.

### **Použité zdroje:**

Strana 5

[obr.1] Slepá mapa Evropy

*Evropa - sešitový atlas pro základní školy a víceletá gymnázia*. Praha: Kartografie 2006. s. 53