



ZÁKLADNÍ ŠKOLA OLOMOUC

příspěvková organizace

MOZARTOVA 48, 779 00 OLOMOUC

tel.: 585 427 142, 775 116 442; fax: 585 422 713

e-mail: kundrum@centrum.cz; www.zs-mozartova.cz



evropský
sociální
fond v ČR



EVROPSKÁ UNIE



MINISTERSTVO ŠKOLSTVÍ,
MLÁDEŽE A TĚLOVÝCHOVY



OP Vzdělávání
pro konkurenceschopnost

INVESTICE DO ROZVOJE VZDĚLÁVÁNÍ

Projekt: ŠKOLA RADOSTI, ŠKOLA KVALITY



Registrační číslo projektu: CZ.1.07/1.4.00/21.3688

EU PENÍZE ŠKOLÁM

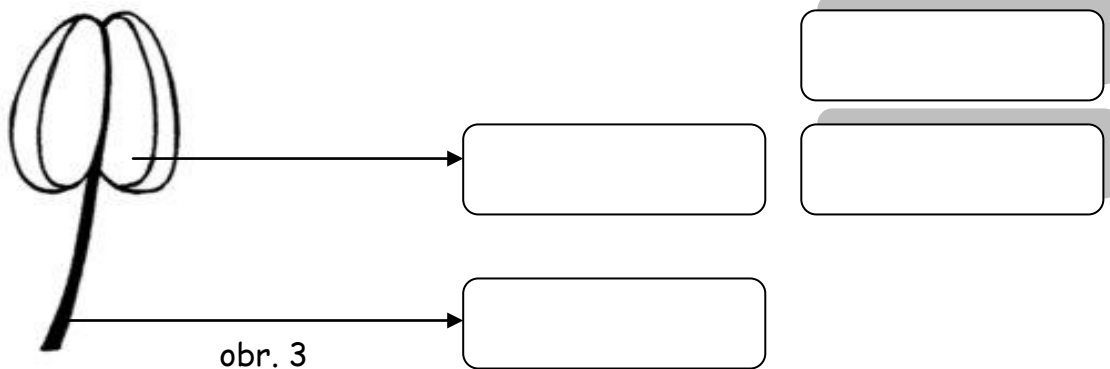
Operační program Vzdělávání pro konkurenceschopnost

Autor:	Mgr. Miluše Zatloukalová
Vzdělávací oblast:	Člověk a příroda
Vzdělávací obor:	Přírodopis
Vyučovací předmět:	Přírodopis
Ročník:	7.
Tematická oblast:	Biologie rostlin
Téma hodiny:	Květ 3
Označení DUM:	VY_32_INOVACE_28.14.ZAT.PR.7
Vytvořeno:	16. 04. 2014

1. Vybarvi obrázky a doplň jména rodová a druhová rostlin.

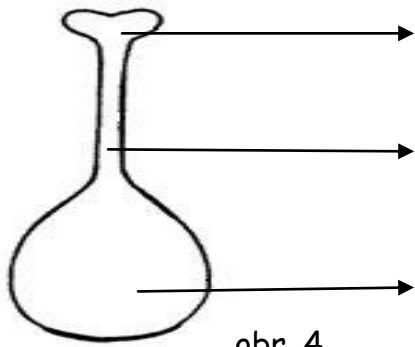
Název rostliny		
		
	obr. 1	obr. 2
Květní obaly		

2. Jak se jmenuje část květu na obrázku? Jedná se o orgán samčí nebo samičí? Popiš části tohoto orgánu.



3. Jak se nazývají pohlavní buňky uložené v prašníku?

4. Jak se jmenuje část květu na obrázku? Jedná se o orgán samčí nebo samičí? Popiš části tohoto orgánu.



obr. 4

5. Jak se nazývají pohlavní buňky uložené v semeníku?

6. Pro popis stavby květů se používají květní vzorce. Co označují následující písmena?

P →

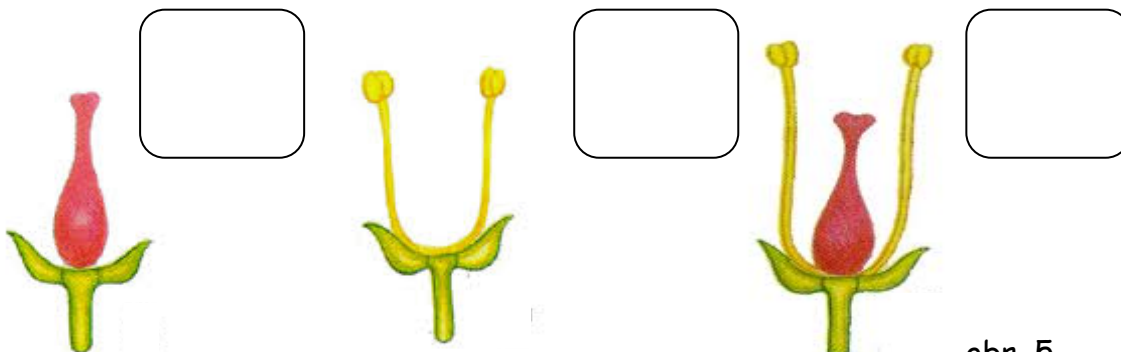
C →

K →

A →


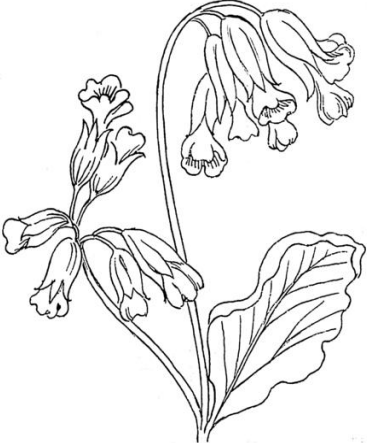
G →

7. Urči květy podle pohlaví.

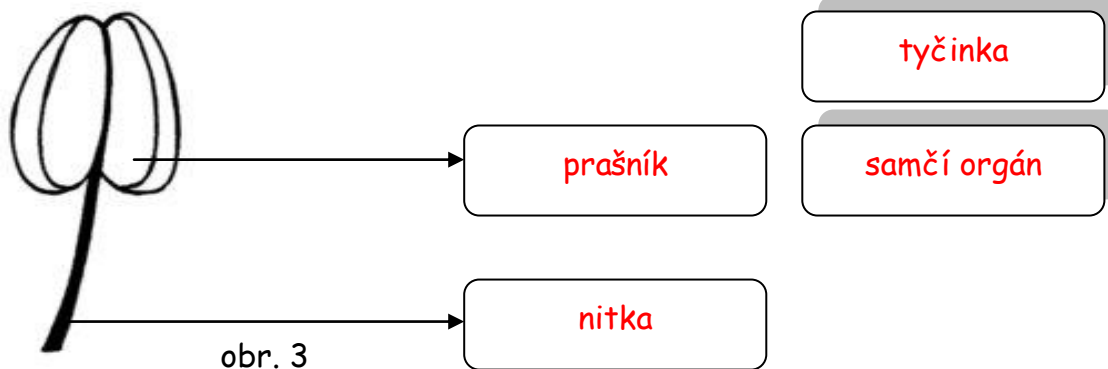


obr. 5

1. Vybarvi obrázky a doplň jména rodová a druhová rostlin.

Název rostliny	Tulipán zahradní	Prvosienka jarní
		
	obr. 1	obr. 2
Květní obaly	nerozlišené	rozlišené
	okvětí	kalich a koruna

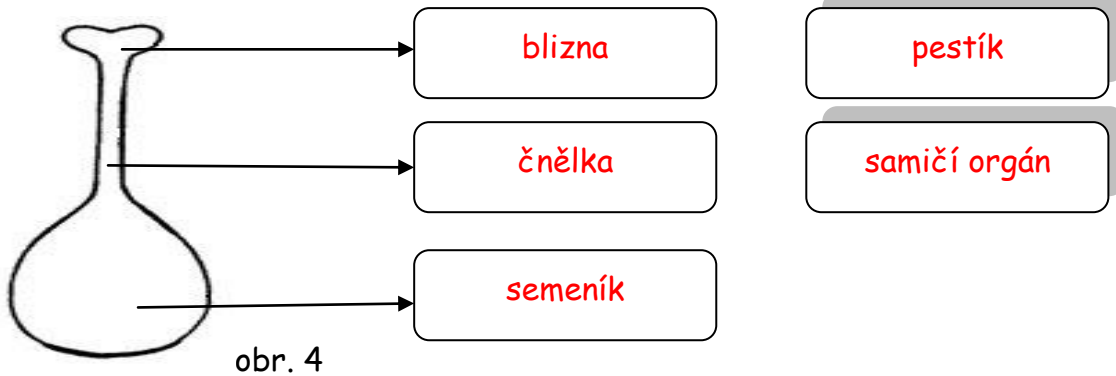
2. Jak se jmenuje část květu na obrázku? Jedná se o orgán samčí nebo samičí? Popiš části tohoto orgánu.



3. Jak se nazývají pohlavní buňky uložené v prašníku?

pyl

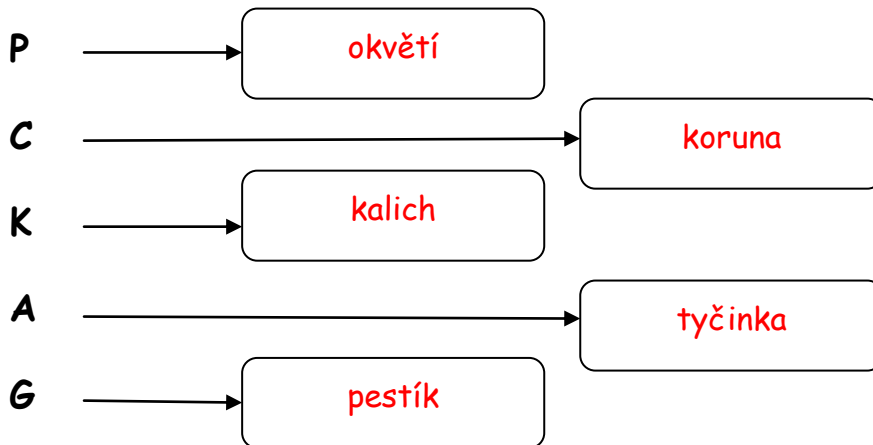
4. Jak se jmenuje část květu na obrázku? Jedná se o orgán samčí nebo samičí? Popiš části tohoto orgánu.




5. Jak se nazývají pohlavní buňky uložené v semeníku?

vajíčko

6. Pro popis stavby květů se používají květní vzorce. Co označují následující písmena?



7. Urči květy podle pohlaví.





ZÁKLADNÍ ŠKOLA OLOMOUC

příspěvková organizace

MOZARTOVA 48, 779 00 OLOMOUC

tel.: 585 427 142, 775 116 442; fax: 585 422 713

e-mail: kundrum@centrum.cz; www.zs-mozartova.cz

Seznam použité literatury a pramenů:

ČERNÍK, V. a kol. Přírodopis 2, Zoologie. Botanika. Praha : SPN, 1999, ISBN 80-7235-069-2. s. 83-84.

Použité zdroje:

[OBR.1][cit.2014-04-15]. Dostupný na
WWW:<<http://www.i-creative.cz/2011/02/24/tulipany/>>.

[OBR.2]: Pearson Scott Foresman. [cit.2014-04-15]. Dostupný pod
licencí Public domain na
WWW:<[http://commons.wikimedia.org/wiki/File:Cowslip_\(PSF\).png?uselang=cs](http://commons.wikimedia.org/wiki/File:Cowslip_(PSF).png?uselang=cs)>.

[OBR.3][cit.2014-04-15]. Dostupný na
WWW:<http://web2.mendelu.cz/af_211_multitext/obecna_botanika/texty-organologie-tycinka_pylova_zrna.html>.

[OBR.4][cit.2014-04-15]. Dostupný na
WWW:<http://web2.mendelu.cz/af_211_multitext/obecna_botanika/texty-organologie-pestik_vajicko_oplozeni.html>.

[OBR.5][cit.2014-04-15]. Dostupný na
WWW:<<http://www.vyukovematerialy.cz/biol/rocnik6/vice/rozmh.htm>>.

Nečíslovaný obrazový materiál je použit z galerie obrázků a
klipartů Microsoft Office.