



ZÁKLADNÍ ŠKOLA OLMOUC

příspěvková organizace

MOZARTOVA 48, 779 00 OLMOUC

tel.: 585 427 142, 775 116 442; fax: 585 422 713

e-mail: kundrum@centrum.cz; www.zs-mozartova.cz



MINISTERSTVO ŠKOLSTVÍ,
MLÁDEŽE A TĚLOVÝCHOVY



INVESTICE DO ROZVOJE VZDĚLÁVÁNÍ

Projekt: ŠKOLA RADOSTI, ŠKOLA KVALITY

Registrační číslo projektu: CZ.1.07/1.4.00/21.3688

EU PENÍZE ŠKOLÁM

Operační program Vzdělávání pro konkurenceschopnost


Autor:	Mgr. Miroslava Janů
Vzdělávací oblast:	Člověk a jeho svět
Vzdělávací obor:	Prvouka
Vyučovací předmět:	Prvouka
Ročník:	3.
Tematická oblast:	Svět kolem nás
Téma hodiny:	Naše vlast 2
Označení DUM:	VY_32_INOVACE_34.06.JAN.PR.3
Vytvořeno:	31. 10. 2013

Do plánu mapy České republiky zakresli a zapiš:

- a) Hlavní město České republiky
- b) Názvy částí republiky podle historické hranice
- c) Vaši obec
- d) Napiš, které řeky protékají vaší obcí? _____
- e) Velká města v České republice (v okolí vaší obce)
- f) Názvy sousedních států



Dopiš k vlajce název státu, vyber z nabídky jeho hlavní město a spoj s vlajkou:



Bratislava

Varšava

Praha

Vídeň

Berlín



Dopiš slova naší státní hymny:

Kde _____ můj, kde _____ můj?

Voda hučí po _____,
_____ šumí po _____,

v _____ skví se jara _____,

zemský ráj to na _____!

A to je ta _____ země, země _____ můj,

Země _____, _____ můj.



Zakroužkuj správná slova ve větách:

Česká republika leží v (Západní / Východní / Střední) Evropě.

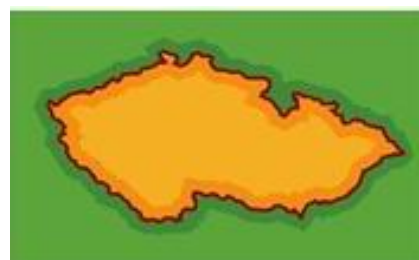
Žije zde přibližně (pět / deset / dvacet) milionů obyvatel.

Historická hranice naší republiky odděluje (Moravu / Slovensko / Čechy / Moravu / Česko).



Hlavním městem České republiky je (Vídeň / Olomouc / Praha / Bratislava).

V čele státu stojí (král / prezident / primátor) a ministři tvořící (vládu / sněm / parlament).

V čele vlády stojí (premiér / prezident / náměstek / předseda).



Vybarvi si podle návodu státní znak České republiky a napiš, co které části vyznačují:



Do plánu mapy České republiky zakresli a zapiš:

- a) **Hlavní město České republiky**
- b) **Názvy částí republiky podle historické hranice**
- c) **Vaši obec** (viz příslušná obec)
- d) **Napiš, které řeky protékají vaší obcí?** Morava, Bystřička (viz příslušná obec)
- e) **Velká města v České republice** (v okolí vaší obce)
- f) **Názvy sousedních států**



Dopiš k vlajce název státu, vyber z nabídky jeho hlavní město a spoj s vlajkou:



Dopiš slova naší státní hymny:

Kde **domov** můj, kde **domov** můj?

Voda hučí po **lučinách**

bory šumí po **skalinách**,

v **sadě** skví se jara **květ**

zemský ráj to na **pohled**!

A to je ta **krásná** země, země **česká** **domov** můj,

Země **česká**, **domov** můj.



Zakroužkuj správná slova ve větách:

Česká republika leží v (Západní / Východní / **Střední**) Evropě.

Žije zde přibližně (pět / **deset** / dvacet) milionů obyvatel.

Historická hranice naší republiky odděluje (**Moravu** / Slovensko / **Čechy** / **Moravu** / Česko).

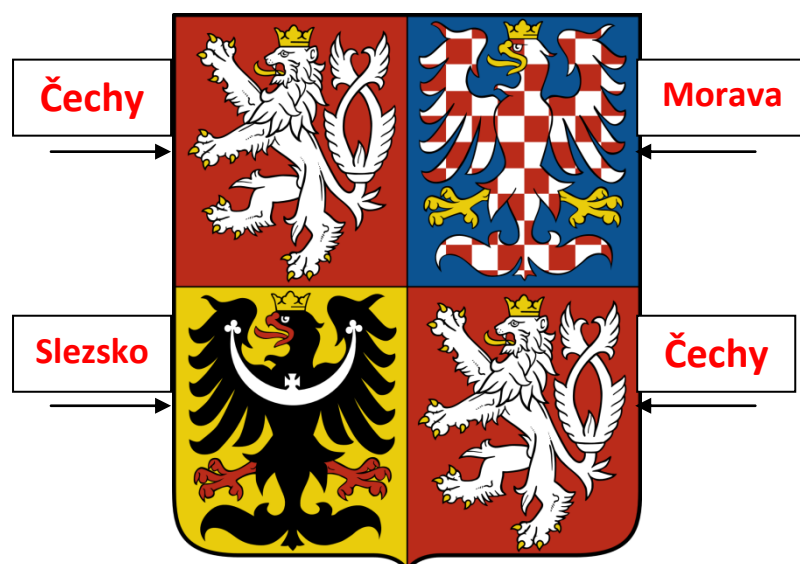
Hlavním městem České republiky je (Vídeň / Olomouc / **Praha** / Bratislava).

V čele státu stojí (král / **prezident** / primátor) a ministři tvořící (**vládu** / sněm / parlament).

V čele vlády stojí (**premiér** / prezident / náměstek / **předseda**).



Vybarvi si podle návodu státní znak České republiky a napiš, co které části vyznačují:





ZÁKLADNÍ ŠKOLA OLMOUC

příspěvková organizace

MOZARTOVA 48, 779 00 OLMOUC

tel.: 585 427 142, 775 116 442; fax: 585 422 713

e-mail: kundrum@centrum.cz; www.zs-mozartova.cz

Seznam použité literatury a pramenů:

ŠTIKOVÁ, V. Prvouka 3 - učebnice pro 3. ročník základní školy.
Brno : Nová škola, 2002. ISBN 80-7289-044-1. s. 19-20.

ŠTIKOVÁ, V. Prvouka 3 - pracovní sešit pro 3. ročník základní školy.
Brno : Nová škola, 2008. ISBN 80-7289-045-X. s. 22-23.

Použité zdroje:

Obrazový materiál je použit z galerie obrázků a klipartů Microsoft Office.