

ZÁKLADNÍ ŠKOLA OLOMOUC

příspěvková organizace

MOZARTOVA 48, 779 00 OLOMOUC

tel.: 585 427 142, 775 116 442; fax: 585 422 713

e-mail: kundrum@centrum.cz; www.zs-mozartova.cz



evropský
sociální
fond v ČR



EVROPSKÁ UNIE



MINISTERSTVO ŠKOLSTVÍ,
MLÁDEŽE A TĚLOVÝCHOVY



OP Vzdělávání
pro konkurenceschopnost

INVESTICE DO ROZVOJE VZDĚLÁVÁNÍ

Projekt: ŠKOLA RADOSTI, ŠKOLA KVALITY

Registrační číslo projektu: CZ.1.07/1.4.00/21.3688

EU PENÍZE ŠKOLÁM

Operační program Vzdělávání pro konkurenceschopnost

| | |
|----------------------------|------------------------------|
| Autor: | Mgr. Eva Hájková |
| Vzdělávací oblast: | Člověk a příroda |
| Vzdělávací obor: | Zeměpis |
| Vzdělávací předmět: | Zeměpis |
| Ročník: | 7. |
| Tematická oblast: | Regiony světa |
| Téma hodiny: | Regiony Afriky |
| Označení DUM: | VY_32_INOVACE_40.09.HAJ.ZE.7 |
| Vytvořeno: | 22. 11. 2013 |

Pracovní list

REGIONY AFRIKY - OPAKOVÁNÍ

1. Doplň text:

Hospodářství většiny států Afriky je Velké možnosti
Rozvoje hospodářství poskytují zásoby, a to hlavně
..... Nejčastější hospodářskou činností
obyvatel venkova je Nejvyspělejším státem
Afriky je, vyšší úroveň dosahují také státy
..... Afriky. Velký význam získává v Africe cestovní
ruch, který směřuje do 2 oblastí: v současnosti nejvíce turistů směřuje do států
..... a, rozvíjí se návštěvy národních parků
v

2. Z řady států rozdělených podle regionů vyškrtni ty, které tam nepatří:

- a) Keňa, Nigérie, Tanzánie, Senegal, Etiopie, Somálsko
- b) Maroko, Tunisko, Angola, Alžírsko, Libye, Egypt, Kamerun
- c) Niger, Súdán, Nigérie, Mauretánie, Mali, Senegal
- d) JAR, Angola, Zimbabwe, Kamerun, Mosambik, Maroko
- e) Nigérie, Ghana, Pobřeží slonoviny, Senegal, Dem. Rep. Kongo

3. Přiřaď státům jejich hlavní města a další charakteristický pojem:

| | | |
|----------|---------------|---------------|
| Senegal | Accra | pyramidy |
| Keňa | Pretoria | safari |
| Egypt | Nairobi | kakao |
| Tanzánie | Dakar | rallye |
| JAR | Káhira | Zanzibar |
| Ghana | Dar es Salaam | nejvyspělejší |

4. Státy a hlavní města Afriky – přiřaď dvojice:

| | |
|-----------------|-------------|
| Maroko | Addis Abeba |
| Angola | Maputo |
| Dem. Rep. Kongo | Chartúm |
| Súdán | Rabat |
| Mosambik | Luanda |
| Etiopie | Kinshasa |

5. Rozhodni, jestli je věta správná, pokud ne, oprav tvrzení:

Sahara vyplňuje většinu Maroka.

V JAR dlouho prosazovali apartheid.

V severní Africe se těží černé uhlí a barevné kovy.

Keňa a Uganda jsou největšími vývozci kakaa.

V pásu Sahel leží nejchudší státy světa.

6. Pozorně přečti nesmyslné věty, skrývají názvy hlavních měst v Africe,

vyhledej je a napiš i s názvem státu, ve kterém leží:

Teta Debora batikuje ubrus.

Chemik rozléval žiravinu.

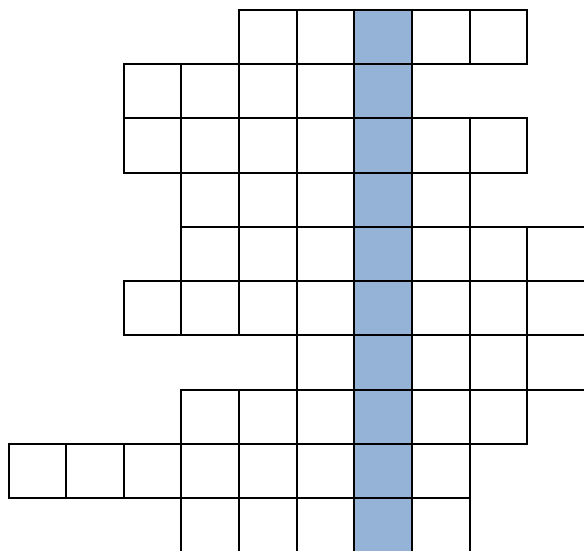
Viděl jsem Milana i Robina.

Leželo tam několik map u toho stolu.

Vážilo to celkem pět tun i s bednou.

Bratr dlouho žil u Andalusie.

7. Vyřeš křížovku!



1. Hlavní město Ghany
2. Tvar ústí řeky Nil
3. Průplav mezi Afrikou a Asií
4. Vývozní tropická plodina
5. Řeka v jižní Africe
6. Zvíře pouštních oblastí
7. Nejznámější tropické ovoce
8. Nejdelší rovnoběžka
9. Pro obživu pěstují nejvíce
10. Pohoří na severu Afriky

Tajenka:

.....

8. Do slepé mapy Afriky zakresli co nejpřesněji:

- | | | |
|------------------|----------------|----------------|
| 1. Madagaskar | 2. Senegal | 3. Egypt |
| 4. Maroko | 5. Nigérie | 6. JAR |
| 7. Tunis | 8. Addis Abeba | 9. Zanzibar |
| 10. Johannesburg | 11. Káhira | 12. Casablanca |

Pracovní list

REGIONY AFRIKY - OPAKOVÁNÍ ŘEŠENÍ

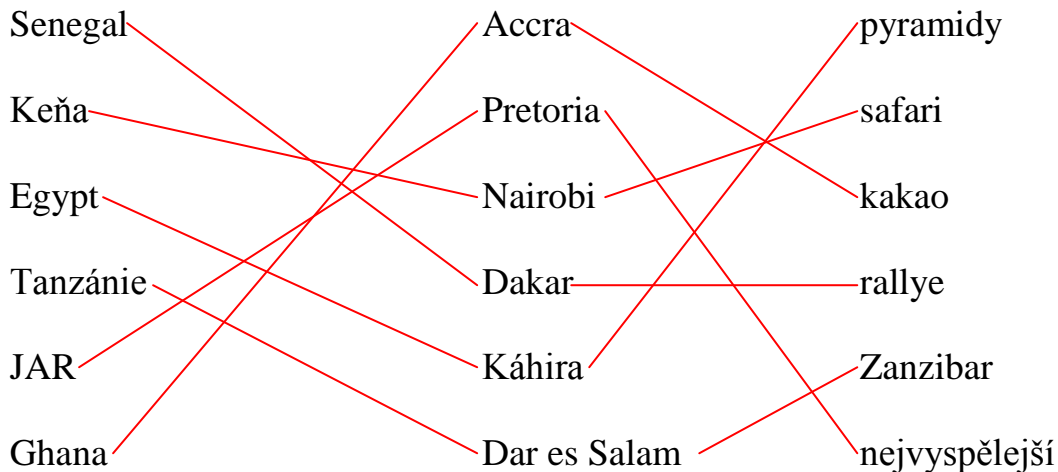
1. Doplň text:

Hospodářství většiny států Afriky je ...**podprůměrné**..... Velké možnosti rozvoje hospodářství poskytují zásoby**nerostných surovin**....., a to hlavně ...**ropa, zemní plyn, barevné a drahé kovy**. Nejčastější hospodářskou činností obyvatel venkova je**zemědělství**..... Nejvyspělejším státem Afriky je ...**Jihoafrická republika**....., vyšší úroveň dosahují také státy ...**severní**.... Afriky. Velký význam získává v Africe cestovní ruch, který směřuje do 2 oblastí: v současnosti nejvíce turistů směřuje do států ...**Egypt**... a ...**Tunisko**....., rozvíjí se návštěvy národních parků v**ve východní Africe**.....

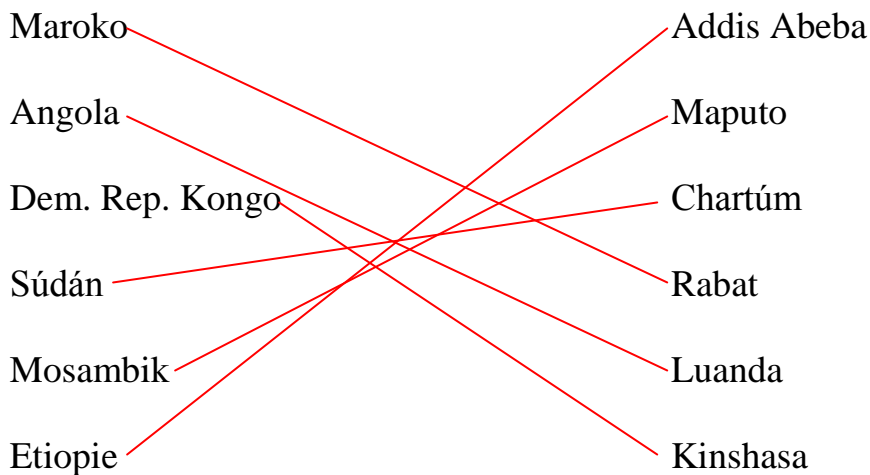
2. Z řady států rozdělených podle regionů vyškrtni ty, které tam nepatří:

- f) Keňa, **Nigérie**, Tanzánie, **Senegal**, Etiopie, Somálsko
- g) Maroko, Tunisko, **Angola**, Alžírsko, Libye, Egypt, **Kamerun**
- h) Niger, Súdán, **Nigérie**, Mauretánie, Mali, **Senegal**
- i) JAR, Angola, Zimbabwe, **Kamerun**, Mosambik, **Maroko**
- j) Nigérie, Ghana, Pobřeží slonoviny, Senegal, Dem. Rep. Kongo

3. Přiřad' státům jejich hlavní města a další charakteristický pojem:



4. Státy a hlavní města Afriky – přiřad' dvojice:



5. Rozhodni, jestli je věta správná, pokud ne, oprav tvrzení:

Sahara vyplňuje většinu Maroka.**ne, Alžírsko**.....

V JAR dlouho prosazovali apartheid.....**ano**.....

V severní Africe se těží černé uhlí a barevné kovy ... **ne, ropa a zemní plyn**.....

Keňa a Uganda jsou největšími vývozcí kakaa. ...**ne, Ghana a Pobřeží slonoviny**

V pásu Sahel leží nejchudší státy světa.....**ano**.....

6. Pozorně přečti nesmyslné věty, skrývají názvy hlavních měst v Africe, vyhledej je a napiš i s názvem státu, ve kterém leží:

Teta Debora **bat**ikuje ubrus.**Rabat (Maroko)**.....

Chemik rozléval **žír**avinu.**Alžír (Alžírsko)**.....

Viděl jsem Milana i **Rob**ina.**Nairobi (Keňa)**.....

Leželo tam několik **map** u toho stolu. ...**Maputo (Mosambik)**.....

Vážilo to celkem pět **tun** i s bednou. ...**Tunis (Tunisko)**.....

Bratr dlouho žil u **Andalusie**.**Luanda (Angola)**.....


7. Vyřeš křížovku!

| | | | | | | | | | |
|---|---|---|---|---|---|---|---|---|--|
| | | | a | c | c | r | a | | |
| d | e | l | t | a | | | | | |
| s | u | e | z | s | k | ý | | | |
| | | k | a | k | a | o | | | |
| | | z | a | m | b | e | z | i | |
| v | e | l | b | l | o | u | d | | |
| | | | b | a | n | á | n | | |
| | | r | o | v | n | í | k | | |
| k | u | k | u | ř | i | c | e | | |
| | | a | t | l | a | s | | | |

11. Hlavní město Ghany
12. Tvar ústí řeky Nil
13. Průplav mezi Afrikou a Asií
14. Vývozní tropická plodina
15. Řeka v jižní Africe
16. Zvíře pouštních oblastí
17. Nejznámější tropické ovoce
18. Nejdelší rovnoběžka
19. Pro obživu pěstují nejvíce
20. Pohoří na severu Afriky

Tajenka:

.....**Casabanca**.....



ZÁKLADNÍ ŠKOLA OLOMOUC

příspěvková organizace

MOZARTOVA 48, 779 00 OLOMOUC

tel.: 585 427 142, 775 116 442; fax: 585 422 713

e-mail: kundrum@centrum.cz; www.zs-mozartova.cz

Seznam použité literatury a pramenů:

SVATOŇOVÁ, H.; KOLEJKA, J. *Zeměpis Putování po světadílech, 1. díl Amerika, Afrika, pro 7. ročník ZŠ nebo sekundy víceletých gymnázií*. Brno: Nová škola, s.r.o. 2012.

96 s. IBSN 978-80-7289-383-6.

DVOŘÁK, J.: *Zeměpis 7 - učebnice pro základní školy a víceletá gymnázia*. Plzeň: Fraus 2005. 128 s. IBSN 80-7238-304-3

Školní atlas světa - pro základní školy a víceletá gymnázia. Praha: Kartografie 2008. 175 s.