

ZÁKLADNÍ ŠKOLA OLOMOUC

příspěvková organizace

MOZARTOVA 48, 779 00 OLOMOUC

tel.: 585 427 142, 775 116 442; fax: 585 422 713

e-mail: kundrum@centrum.cz; www.zs-mozartova.cz



INVESTICE DO ROZVOJE VZDĚLÁVÁNÍ

Projekt: ŠKOLA RADOSTI, ŠKOLA KVALITY

Registrační číslo projektu: CZ.1.07/1.4.00/21.3688

EU PENÍZE ŠKOLÁM

Operační program Vzdělávání pro konkurenceschopnost

Autor:	Mgr. Eva Hájková
Vzdělávací oblast:	Člověk a příroda
Vzdělávací obor:	Zeměpis
Vzdělávací předmět:	Zeměpis
Ročník:	7.
Tematická oblast:	Regiony světa
Téma hodiny:	Přírodní poměry Ameriky
Označení DUM:	VY_32_INOVACE_40.10.HAJ.ZE.7
Vytvořeno:	10. 12. 2013

Pracovní list

AMERIKA – přírodní poměry

1. Doplň text:

Celá Amerika má rozlohumil. km², z toho Severní Amerika má rozlohumil.km², Jižní Amerikamil.km².
Celá Amerika leží na polokouli, na její i polokouli. Ameriku omývá ze západu oceán, z východu oceán, na severuZe všech kontinentů má Amerika nejbliže k, je od ní oddělenaprůlivem.
Od nejsevernějšího bodu Ameriky k nejjižnějšímu je vzdálenostkm.
Nejužší místo kontinentu je v oblasti, kde byl vybudovánprůplav, který rozděluje Ameriku na 2 části:
aČlenitost Ameriky je velká hlavně včásti.

2. Z řady pojmů vyškrtni ty, které mezi ně nepatří:

- a) Karibské Sargasové Rudé Baffinovo Beaufortovo Černé
- b) Kalifornský Aljašský Guinejský Mexický Hudsonův Perský
- c) Grónsko Kuba Madagaskar Ohňová země Jamajka Baffinův
- d) Velké Antily Baleáry Malé Antily Bahamy Britské souostroví
- e) Florida Kalifornský Aljaška Yucatán Somálský Labrador

3. Rozřad' pojmy z povrchu Ameriky šipkou vlevo nebo vpravo:

Severní Amerika

Jižní Amerika

Kordillery

Laplatská nížina

Andy

Amazonská nížina

Appalačské pohoří

Mississippská nížina

Pobřežní nížina

Skalnaté hory

Brazilská vysočina

4. Vodstvo Ameriky – přiřad' dvojice:

Nejdelší řeka SA

Michiganské

Odtéká z kanadských jezer

Titicaca

Na Aljašce

Colorado

La Plata

Mississippi

Nejdelší řeka JA

Paraná

Největší jezero

sv. Vavřince

Nejvýše ležící jezero

Yukon

Grand kaňon

Amazonka

5. Rozhodni, jestli je věta správná, pokud ne, oprav tvrzení:

Severní Amerika má menší rozlohu než Jižní.

Niagarské vodopády jsou mezi Erijským jezerem a Ontariem.....

Podnebí Ameriky je mírné a arktické.....

Nejvyšší hora Severní Ameriky je Aconcagua.

Většina jezer v Kanadě je ledovcového původu.....

Poušť Atacama leží v Severní Americe

Střední Amerika má tropické podnebí

6. Vegetační oblasti Ameriky:

Uveď 3 nejvýznamnější vegetační oblast v Severní Americe a charakterizuj je:

a)

b)

c)

Uveď 2 nejvýznamnější vegetační oblast v Jižní Americe a charakterizuj je:

a)

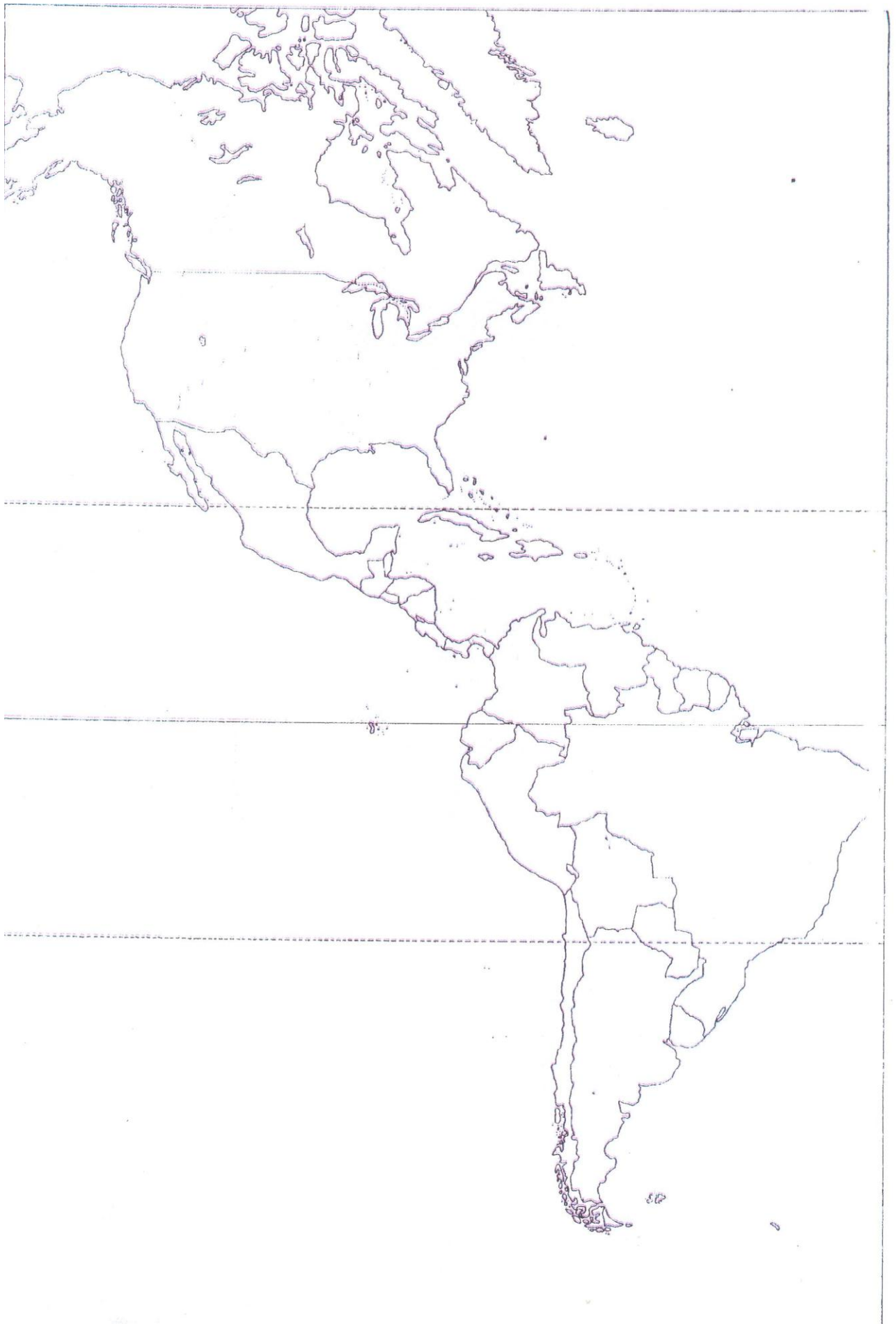
b)

7. Do slepé mapy Ameriky zakresli co nejpřesněji:

1. Mexický záliv 2. Labrador 3. Ohňová země 4. Aljaška

5. Mississippi 6. Amazonka 7. Velké Antily 8. Yucatán

9. Atacama 10. Florida 11. Hudsonův z. 12. Yukon



Pracovní list

AMERIKA – přírodní poměry

1. Doplň text:

Celá Amerika má rozlohu ...**42,2**mil. km², z toho Severní Amerika má rozlohu ...**24,4**.....mil.km², Jižní Amerika ...**17,8**.....mil.km².

Celá Amerika leží na polokouli ...**západní**..., na její ...**severní**... i ...**jižní**... polokouli. Ameriku omývá ze západu oceán ...**Tichý**., z východu ...**Atlantský** oceán, na severu ... **Severní ledový oceán**...Ze všech kontinentů má Amerika nejbliže k ...**Asii**..., je od ní oddělena ...**Beringovým**... průlivem.

Od nejsevernějšího bodu Ameriky k nejjižnějšímu je vzdálenost.. **15 000**..km.

Nejužší místo kontinentu je v oblasti ...**střední Ameriky**..., kde byl vybudován

...**Panamský**.....průplav, který rozděluje Ameriku na 2 části: ...**Severní** ...

a**Jižní**.....Členitost Ameriky je velká hlavně v ...**severní**....části.

2. Z řady pojmů vyškrtni ty, které mezi ně nepatří:

a) Karibské Sargasové ~~Rudé~~ Baffinovo Beaufortovo ~~Černé~~

b) Kalifornský Aljašský ~~Guinejský~~ Mexický Hudsonův ~~Perský~~

c) Grónsko Kuba ~~Madagaskar~~ Ohňová země Jamajka Baffinův


d) Velké Antily ~~Baleáry~~ Malé Antily Bahamy ~~Britské souostroví~~

e) Florida Kalifornský Aljaška Yucatán ~~Somálský~~ Labrador

3. Rozřad' pojmy z povrchu Ameriky šipkou vlevo nebo vpravo:

Severní Amerika

Jižní Amerika



4. Vodstvo Ameriky – přiřad' dvojice:



8. Rozhodni, jestli je věta správná, pokud ne, oprav tvrzení:

- Severní Amerika má menší rozlohu než Jižní.**ne, SA je větší**.....
- Niagarské vodopády jsou mezi Erijským jezerem a Ontariem.....**ano**.....
- Podnebí Ameriky je mírné a arktické..... **Všechny podnebné pásy**.....
- Nejvyšší hora Severní Ameriky je Aconcagua.**ne, ta je v JA**.....
- Většina jezer v Kanadě je ledovcového původu.....**ano**.....
- Poušť Atacama leží v Severní Americe**ne, leží v JA**.....
- Střední Amerika má tropické podnebí**ano**.....


9. Vegetační oblasti Ameriky:

Uveď 3 nejvýznamnější vegetační oblast v Severní Americe a charakterizuj je:

- a)..**lesy mírného pásu**..... ..**jehličnaté (tajga), severní část Kanady**.....
- b)..**stepi (prérie)**..... ..**centrální roviny, černozem, obilnice**.....
- c)..**subtropická vegetace**.. ..**jih USA, okolo Mexického zálivu**.....

Uveď 2 nejvýznamnější vegetační oblast v Jižní Americe a charakterizuj je:

- d)..**tropický deštný prales**... ..**Amazonie, největší světový prales**.....
- e)..**stepi (pampy)**..... ..**úrodné, obilnice, suché – chov skotu**...



ZÁKLADNÍ ŠKOLA OLOMOUC

příspěvková organizace

MOZARTOVA 48, 779 00 OLOMOUC

tel.: 585 427 142, 775 116 442; fax: 585 422 713

e-mail: kundrum@centrum.cz; www.zs-mozartova.cz

Seznam použité literatury a pramenů:

SVATOŇOVÁ, H.; KOLEJKA, J. *Zeměpis Putování po světadílech, 1. díl Amerika, Afrika, pro 7. ročník ZŠ nebo sekundy víceletých gymnázií*. Brno: Nová škola, s.r.o. 2012.

96 s. ISBN 978-80-7289-383-6.

DVOŘÁK, J.: *Zeměpis 7 - učebnice pro základní školy a víceletá gymnázia*. Plzeň: Fraus 2005. 128 s. ISBN 80-7238-304-3

Školní atlas světa - pro základní školy a víceletá gymnázia. Praha: Kartografie 2008. 175 s.